

Die Zahlen bis 20

Das muss ich wissen!



In einen Eierkarton passen 10 Eier!



Wenn ein Karton **voll** ist, nenne ich ihn **Zehner**, weil 10 Eier drin sind. Ein voller Eierkarton ist also 1 Zehner! Zwei volle Kartons sind 2 Zehner und so weiter.



Zehner kürze ich mit **Z** ab.

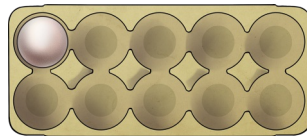



Einzelne Eier nenne ich **Einer**.



Einer kürze ich mit **E** ab.

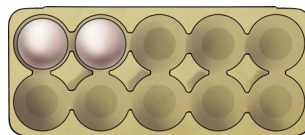

Die Zahl 11



Volle Eierschachtel	Einzelne Eier
Zehner (Z)	Einer (E)
1	1

Aufgabe: $10+1$

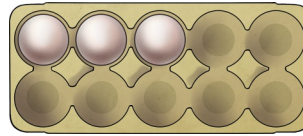

Die Zahl 12



Volle Eierschachtel	Einzelne Eier
Zehner (Z)	Einer (E)

Aufgabe: $10+ \underline{\quad}$

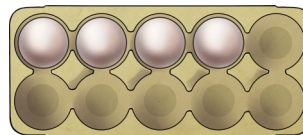
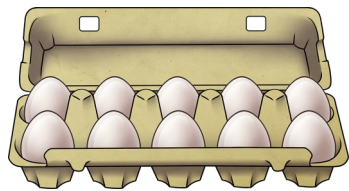
Die Zahl 13



Volle Eierschachtel	Einzelne Eier
Zehner (Z)	Einer (E)

Aufgabe: 10+

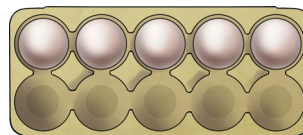
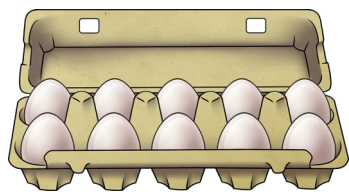
Die Zahl 14



Volle Eierschachtel	Einzelne Eier
Zehner (Z)	Einer (E)

Aufgabe: 10+

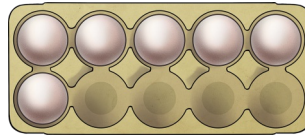

Die Zahl 15



Volle Eierschachtel	Einzelne Eier
Zehner (Z)	Einer (E)

Aufgabe: 10+

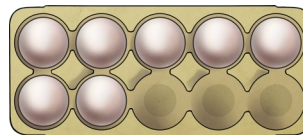
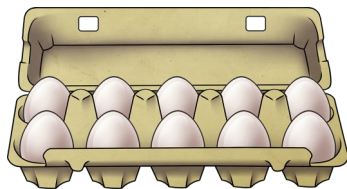
Die Zahl 16



Volle Eierschachtel	Einzelne Eier
Zehner (Z)	Einer (E)

Aufgabe: 10+



Die Zahl 17



Volle Eierschachtel	Einzelne Eier
Zehner (Z)	Einer (E)

Aufgabe: 10+


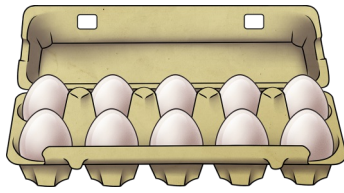
Die Zahl 18



Volle Eierschachtel	Einzelne Eier
Zehner (Z)	Einer (E)

Aufgabe: 10+

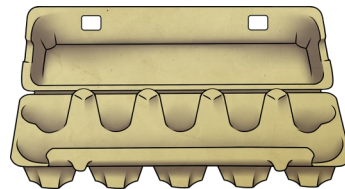
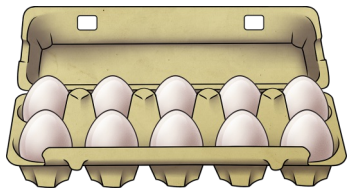

Die Zahl 19



Volle Eierschachtel	Einzelne Eier
Zehner (Z)	Einer (E)

Aufgabe: 10+

Die Zahl 20



Volle Eierschachtel	Einzelne Eier
Zehner (Z)	Einer (E)

Aufgabe: 10+



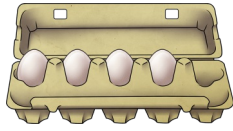
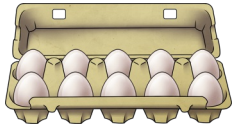
Schreibe Zehner und Einer immer dicht beieinander in die Tabelle!

Beispiel:

Volle Eierschachtel	Einzelne Eier
Zehner (Z)	Einer (E)
1	3

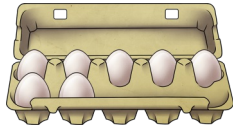
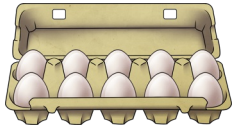
Übung zum Bündel

Aufgabe: Schreibe Zehner (Z) und Einer (E) auf. Wie heißt die Zahl?



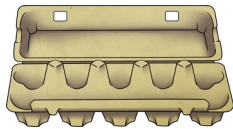
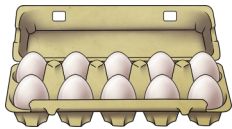
Z	E
1	4

Die Zahl heißt:



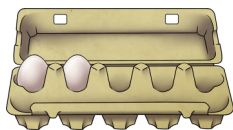
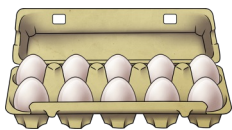
Z	E

Die Zahl heißt:



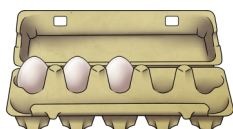
Z	E

Die Zahl heißt:



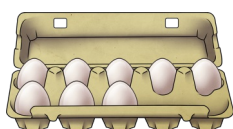
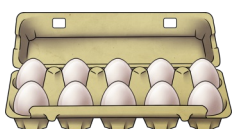
Z	E

Die Zahl heißt:





Z	E

Die Zahl heißt:



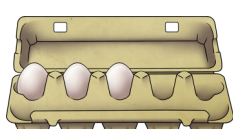

Z	E

Die Zahl heißt:



Z	E

Die Zahl heißt:




Z	E

Die Zahl heißt:

Übung zum Bündel

Aufgabe: Kreise immer 10 Gegenstände ein! Wie viele Zehner (Z) und Einer (E) erhältst du? Wie heißt die Aufgabe? Wie heißt die Zahl?


Bitte gib hier deinen Text ein



Z	E


10+ ____
Die Zahl heißt:

Bitte gib hier deinen Text ein




Z	E

10+ ____
Die Zahl heißt:



Z	E

10+ ____
Die Zahl heißt:



Z	E

10+ ____
Die Zahl heißt:

Aufgabe: Male eine eigene Aufgabe!

Z	E

10+ ____
Die Zahl heißt: