
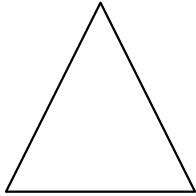
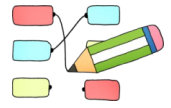


Geometrie – Wiederholung


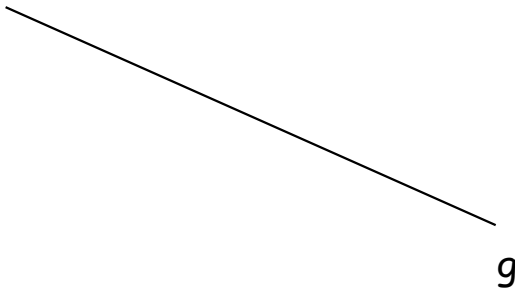
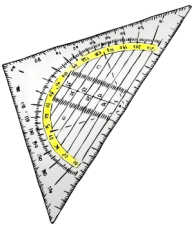
1. Geometrische Formen

- a) Welche geometrischen Formen sind es? **Verbinde.**
b) Zeichne alle rechten Winkel ein.



Rechteck Dreieck Quadrat Parallelogramm

2. Zeichne eine **Parallele** zu jeder der Geraden. Zeichne mit **Geodreieck**.



3. Zeichne eine **Senkrechte** zu jeder der Geraden. Zeichne mit **Geodreieck**.

