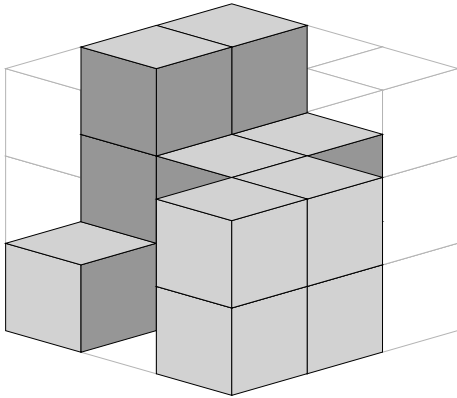


Mathematik / Geometrie

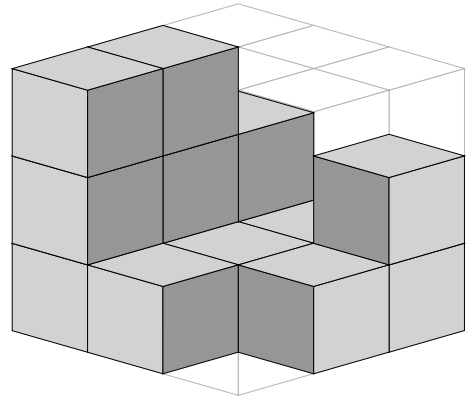
Matheaufgaben für die 3. und 4. Klasse: Fehlende Würfel zählen

Ein großer Würfel soll aus 27 kleinen zusammengesetzt werden. Wie viele fehlen noch?

1)

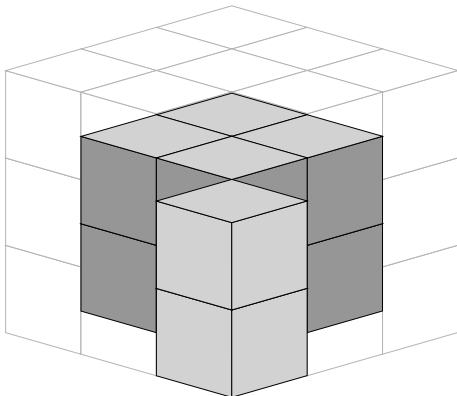


Es fehlen Würfel.

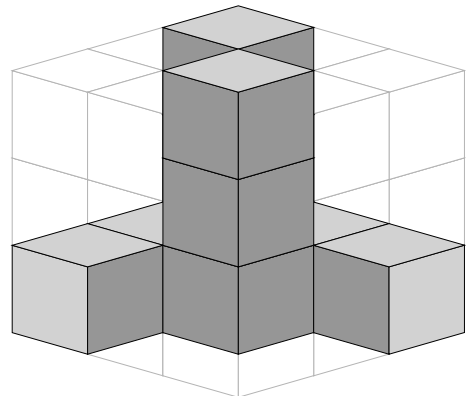


Es fehlen Würfel.

2)

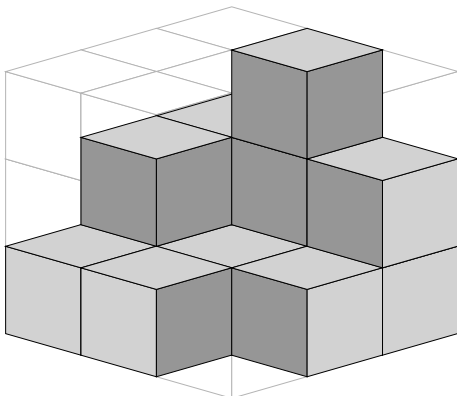


Es fehlen Würfel.

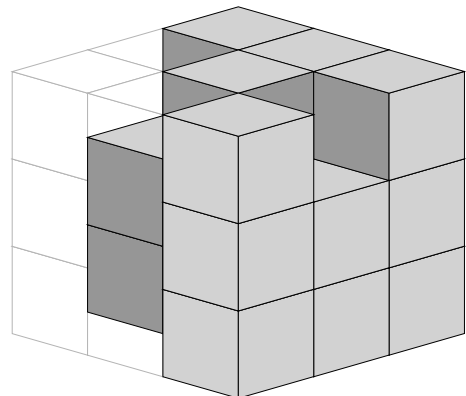


Es fehlen Würfel.

3)



Es fehlen Würfel.



Es fehlen Würfel.

Mathematik / Geometrie

Matheaufgaben für die 3. und 4. Klasse: Fehlende Würfel zählen

Ein großer Würfel soll aus 27 kleinen zusammengesetzt werden. Wie viele fehlen noch?

Lösungen

- | | | |
|----|----------------------|----------------------|
| 1) | Es fehlen 12 Würfel. | Es fehlen 13 Würfel. |
| 2) | Es fehlen 17 Würfel. | Es fehlen 17 Würfel. |
| 3) | Es fehlen 14 Würfel. | Es fehlen 8 Würfel. |